

# L'EVOLUZIONE DELL'UOMO

## *DALL'AUSTRALOPITECO ALL'HOMO SAPIENS*




#IORESTOACASA

**IMPARA LA TABELLA A MEMORIA. TI SERVIRA' POI PER RACCONTARE COME E' EVOLUTO L'UOMO**

<b>NOME</b>	
<b>DOVE È VISSUTO</b>	
<b>COME ERA</b>	TESTA
	CORPO
	GAMBE
	BRACCIA
<b>DOVE SI RIPARAVA</b>	
<b>COME VIVEVA</b> <b>ABITUDINI</b>	
<b>COME COMUNICAVA</b>	
<b>CHE COSA FACEVA</b>	
<b>CHE COSA COSTRUIVA</b>	
<b>CHE COSA MANGIAVA</b>	

<b>NOME</b>	
<b>DOVE È VISSUTO</b>	
<b>COME ERA</b>	TESTA
	CORPO
	GAMBE
	BRACCIA
<b>DOVE SI RIPARAVA</b>	
<b>COME VIVEVA ABITUDINI</b>	
<b>COME COMUNICAVA</b>	
<b>CHE COSA FACEVA</b>	
<b>CHE COSA COSTRUIVA</b>	
<b>CHE COSA MANGIAVA</b>	

**OSSERVA LE IMMAGINI: PROVA A DESCRIVERE L'AUSTRALOPITECO CON L'AIUTO DELLA TABELLA**




**OSSERVA LE IMMAGINI: PROVA A DESCRIVERE L'AUSTRALOPITECO  
RICORDA LA SUCCESSIONE DELLA TABELLA**





<b>NOME</b>	
<b>DOVE È VISSUTO</b>	
<b>COME ERA</b>	TESTA
	CORPO
	GAMBE
	BRACCIA
<b>DOVE SI RIPARAVA</b>	
<b>COME VIVEVA ABITUDINI</b>	
<b>COME COMUNICAVA</b>	
<b>CHE COSA FACEVA</b>	
<b>CHE COSA COSTRUIVA</b>	
<b>CHE COSA MANGIAVA</b>	

**OSSERVA LE IMMAGINI: PROVA A DESCRIVERE L'HOMO ABILIS CON L'AIUTO DELLA TABELLA**




# OSSERVA LE IMMAGINI: PROVA A DESCRIVERE L'HOMO ABILIS RICORDA LA SUCCESSIONE DELLA TABELLA






<b>NOME</b>	
<b>DOVE È VISSUTO</b>	
<b>COME ERA</b>	TESTA
	CORPO
	GAMBE
	BRACCIA
<b>DOVE SI RIPARAVA</b>	
<b>COME VIVEVA ABITUDINI</b>	
<b>COME COMUNICAVA</b>	
<b>CHE COSA FACEVA</b>	
<b>CHE COSA COSTRUIVA</b>	
<b>CHE COSA MANGIAVA</b>	

**OSSERVA LE IMMAGINI: PROVA A DESCRIVERE L'HOMO ERECTUS CON L'AIUTO DELLA TABELLA**



# OSSERVA LE IMMAGINI: PROVA A DESCRIVERE L'HOMO ERECTUS RICORDA LA SUCCESSIONE DELLA TABELLA





# OSSERVA LE IMMAGINI: PROVA A DESCRIVERE L'HOMO SAPIENS CON L'AIUTO DELLA TABELLA

<b>NOME</b>	
<b>DOVE È VISSUTO</b>	
<b>COME ERA</b>	TESTA
	CORPO
	GAMBE
	BRACCIA
<b>DOVE SI RIPARAVA</b>	
<b>COME VIVEVA ABITUDINI</b>	
<b>COME COMUNICAVA</b>	
<b>CHE COSA FACEVA</b>	
<b>CHE COSA COSTRUIVA</b>	
<b>CHE COSA MANGIAVA</b>	



# OSSERVA LE IMMAGINI: PROVA A DESCRIVERE L'HOMO SAPIENS RICORDA LA SUCCESSIONE DELLA TABELLA





**OSSERVA LE IMMAGINI: PROVA A DESCRIVERE L'UOMO DI NEANDERTHAL CON L'AIUTO DELLA TABELLA**

<b>NOME</b>	
<b>DOVE È VISSUTO</b>	
<b>COME ERA</b>	TESTA
	CORPO
	GAMBE
	BRACCIA
<b>DOVE SI RIPARAVA</b>	
<b>COME VIVEVA</b>	
<b>ABITUDINI</b>	
<b>COME COMUNICAVA</b>	
<b>CHE COSA FACEVA</b>	
<b>CHE COSA COSTRUIVA</b>	
<b>CHE COSA MANGIAVA</b>	






**OSSERVA LE IMMAGINI: PROVA A DESCRIVERE L'UOMO DI NEANDERTHAL  
RICORDA LA SUCCESSIONE DELLA TABELLA**





**OSSERVA LE IMMAGINI: PROVA A  
DESCRIVERE L'UOMO  
DI CRO-MAGNON CON L'AIUTO  
DELLA TABELLA**

<b>NOME</b>	
<b>DOVE È VISSUTO</b>	
<b>COME ERA</b>	TESTA
	CORPO
	GAMBE
	BRACCIA
<b>DOVE SI RIPARAVA</b>	
<b>COME VIVEVA ABITUDINI</b>	
<b>COME COMUNICAVA</b>	
<b>CHE COSA FACEVA</b>	
<b>CHE COSA COSTRUIVA</b>	
<b>CHE COSA MANGIAVA</b>	



**OSSERVA LE IMMAGINI: PROVA A DESCRIVERE L'UOMO DI CRO-MAGNON  
RICORDA LA SUCCESSIONE DELLA TABELLA**






# **GLI STRUMENTI DEL PALEOLITICO**

# IMPARA A MEMORIA LA TABELLA TI SERVIRA' PER DESCRIVERE GLI STRUMENTI DEL PALEOLITICO

NOME	CHI LO USAVA	COME ERA FATTO	A COSA SERVIVA


# OSSERVA L'IMMAGINE DEL CHOPPER E PROVA A DESCRIVERE CON L'AIUTO DELLA TABELLA

NOME	CHI LO USAVA	COME ERA FATTO	A COSA SERVIVA





- Chopper



# OSSERVA L'IMMAGINE DELL'AMIGDALA E PROVA A DESCRIVERE CON L'AIUTO DELLA TABELLA

NOME	CHI LO USAVA	COME ERA FATTO	A COSA SERVIVA

Amigdala




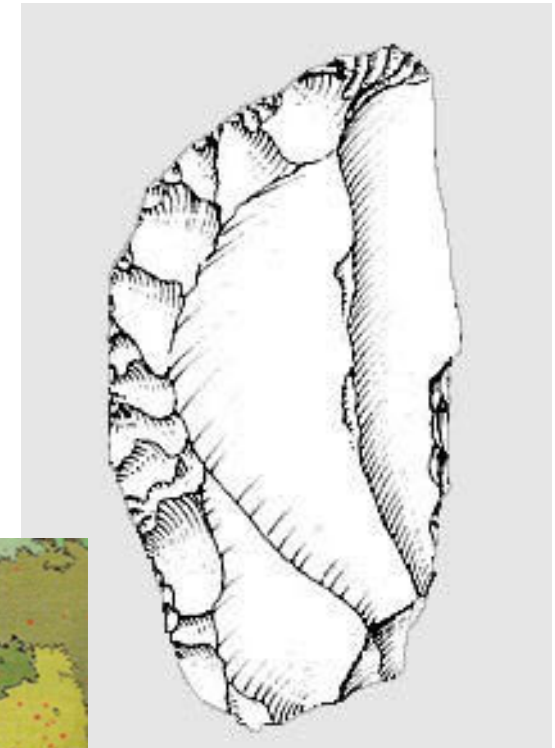
# Amigdala



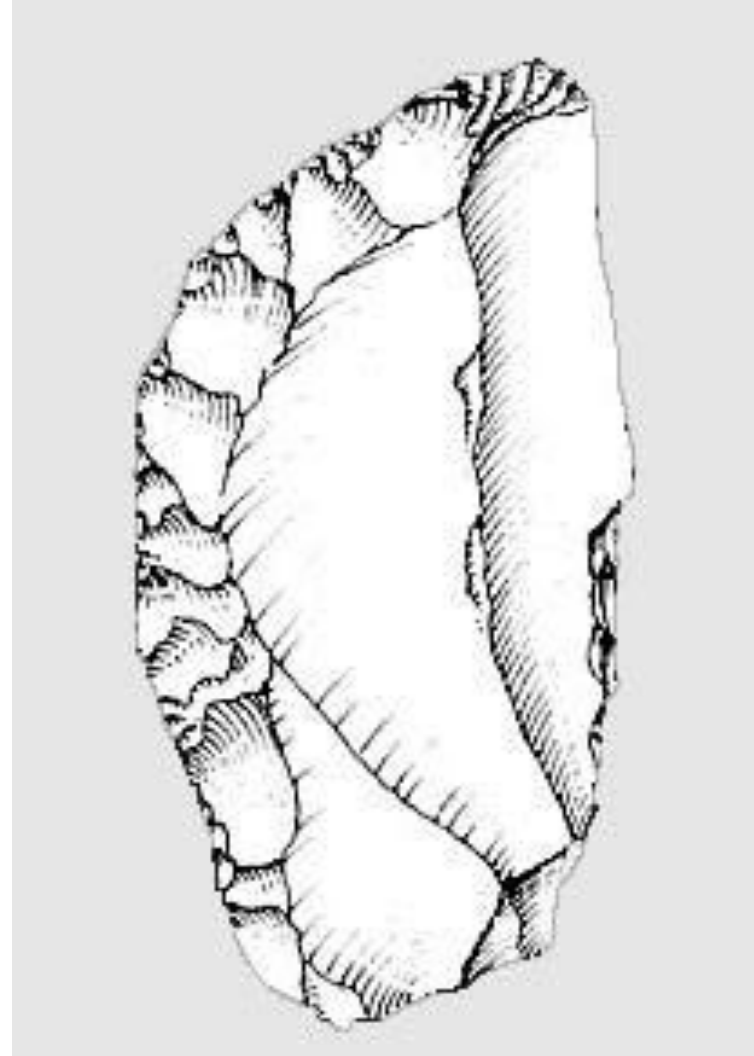


# OSSERVA L'IMMAGINE DEL RASCHIATOIO E PROVA A DESCRIVERE CON L'AIUTO DELLA TABELLA

NOME	CHI LO USAVA	COME ERA FATTO	A COSA SERVIVA




OSSERVA L'IMMAGINE DEL RASCHIATOIO E PROVA A DESCRIVERE, RICORDA LA SUCCESSIONE DELLA TABELLA



# OSSERVA L'IMMAGINE DELLA PUNTA E PROVA A DESCRIVERE CON L'AIUTO DELLA TABELLA

NOME	CHI LO USAVA	COME ERA FATTO	A COSA SERVIVA





**OSSERVA L'IMMAGINE DELLA PUNTA E PROVA A DESCRIVERE RICORDA LA SUCCESSIONE DELLA TABELLA**



# OSSERVA L'IMMAGINE DELLA LANCIA E DESCRIVI CON L'AIUTO DELLA TABELLA

NOME	CHI LO USAVA	COME ERA FATTO	A COSA SERVIVA




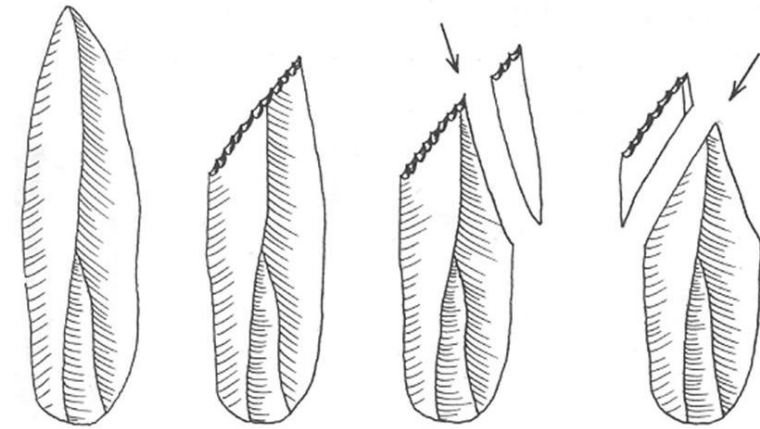


OSSERVA L'IMMAGINE DELLA LANCIA E DESCRIVI, RICORDA LA SUCCESSIONE DELLA TABELLA



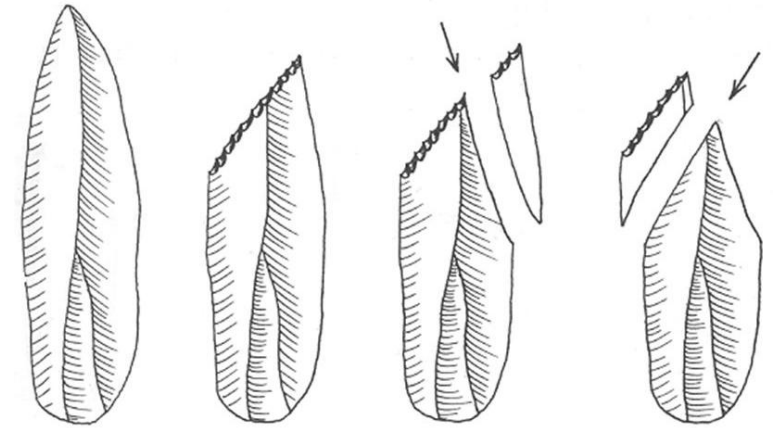

# OSSERVA L'IMMAGINE DEL BULINO E PROVA A DESCRIVERE CON L'AIUTO DELLA TABELLA

NOME	CHI LO USAVA	COME ERA FATTO	A COSA SERVIVA





**OSSERVA L'IMMAGINE DEL BULINO E PROVA A DESCRIVERE RICORDA LA SUCCESSIONE DELLA TABELLA**



OSSERVA L'IMMAGINE DELL'AMO E DELL'ARPIONE E PROVA A DESCRIVERE CON L'AIUTO DELLA TABELLA

NOME	CHI LO USAVA	COME ERA FATTO	A COSA SERVIVA





OSSERVA L'IMMAGINE DELL'AMO E DELL'ARPIONE E DESCRIVI, RICORDA LA SUCCESSIONE DELLA TABELLA





# OSSERVA L'IMMAGINE DELL'ARCO E DELLA FRECCIA E DESCRIVI CON L'AIUTO DELLA TABELLA

NOME	CHI LO USAVA	COME ERA FATTO	A COSA SERVIVA



OSSERVA L'IMMAGINE DELL'ARCO E DELLA FRECCIA E DESCRIVI , RICORDA LA SUCCESSIONE DELLA TABELLA





# OSSERVA L'IMMAGINE DELL'AGO E DESCRIVI CON L'AIUTO DELLA TABELLA

NOME	CHI LO USAVA	COME ERA FATTO	A COSA SERVIVA





OSSERVA L'IMMAGINE DELL'AGO E DESCRIVI RICORDA LA SUCCESSIONE DELLA TABELLA

