



ASPETTANDO PASQUA...



#IORESTOACASA



Completa le tabelle

+	6	5	9
10			
22			
30			

+	4	6	10
12			
18			
25			













+	10	20	40
10			
45			
52			

+	3da	4da	5da
10			
20			
30			

BEVANDE CHE I BAMBINI BEVONO DURANTE L'INTERVALLO A SCUOLA

OGNI  VALE 5 BAMBINI

OSSERVA LA TABELLA E RISPONDI ALLE DOMANDE

BEVANDE	BAMBINI
LATTE	   
SUCCO DI FRUTTA	    
LATTE AL CIOCCOLATO	
CIOCCOLATO	 

QUANTI BAMBINI BEVONO CIOCCOLATO?-----

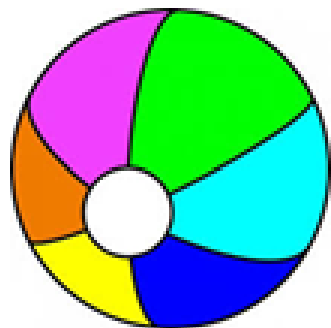
QUANTI BAMBINI BEVONO UN SUCCO DI FRUTTA?-----

QUANTI BAMBINI BEVONO IL LATTE?-----

QUANTI BAMBINI BEVONO LATTE AL CIOCCOLOATO?-----

METTI IN ORDINE I NUMERI DAL PIU' PICCOLO AL PIU' GRANDE

27	72	40	60	
30	13	133	103	
56	65	5	15	
20	15	31	53	
60	16	6	36	
10	5	24	45	
65	75	15	5	



SCRIVI I NUMERI. **ATTENTO!!!** NON TUTTI I NUMERI SONO NELLA LORO POSIZIONE GIUSTA!!!!

ESEMPIO: 6 UNITA' 4 DECINE = 46

3 UNITA' 4 DECINE	
1 DECINA 5 UNITA'	
0 UNITA 8 DECINE	
5 DECINE 4 UNITA'	
6 UNITA' 2 DECINE	
4 UNITA' 1 DECINA	

6 DECINE 1 UNITA'	
3 DECINE 3 UNITA'	
8 UNITA' 1 DECINA	
3 DECINE 4 UNITA'	
0 UNITA' 2 DECINE	
7 UNITA' 7 DECINE	

Cristina riempie d'acqua una bottiglia, un bicchiere e un secchio, poi mette in ordine i tre recipienti da quello che contiene più acqua a quello che ne contiene di meno. In che ordine li ha messi?

- A. Bottiglia, bicchiere, secchio
- B. Bicchiere, bottiglia, secchio
- C. Secchio, bottiglia, bicchiere

Completa le tabelle

-	6	5	9
10			
20			
30			

-	4	6	10
12			
18			
25			

-	10	20	40
10			
40			
50			

-	1 u	8u	1da
10			
20			
30			

Chi tra Anna, Barbara e Chiara ha fatto il calcolo giusto?

A. Anna



diciotto più tredici
è uguale a trentuno

B. Barbara



diciotto più tredici
è uguale a ventuno

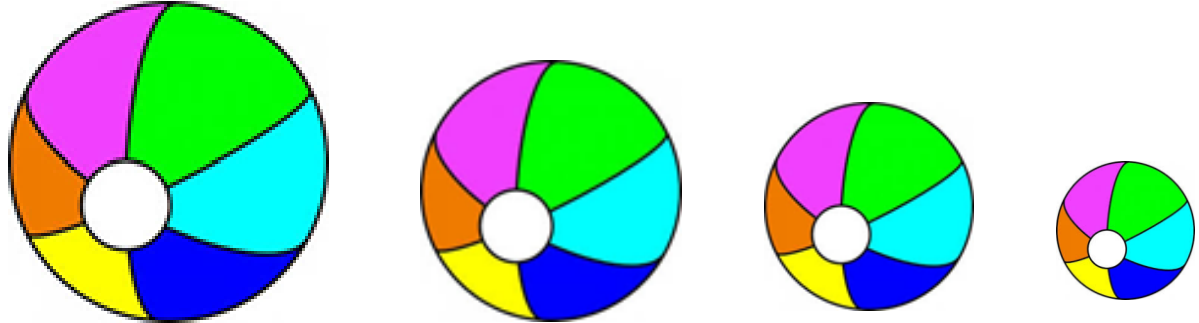
C. Chiara




diciotto più tredici
è uguale a trenta

METTI IN ORDINE I NUMERI DAL PIU' GRANDE AL PIU' PICCOLO

19	23	1	12	
30	35	5	15	
36	63	33	60	
4	14	43	34	
67	87	6	19	
12	21	10	2	
65	75	15	51	



COMPLETA IL GRAFICO . **ATTENTO:**

OGNI  = **3** BAMBINI

STAGIONI E COMPLEANNI

AUTUNNO = 6 BAMBINI
INVERNO = 12 BAMBINI
PRIMAVERA= 9 BAMBINI
ESTATE= 15 BAMBINI

AUTUNNO	INVERNO	PRIMAVERA	ESTATE

COMPLETA LE TABELLE, PUOI USARE IL BLOCCHETTO DELLE TABELLINE

X	6	5	9
1			
2			
3			

X	4	6	10
2			
3			
4			

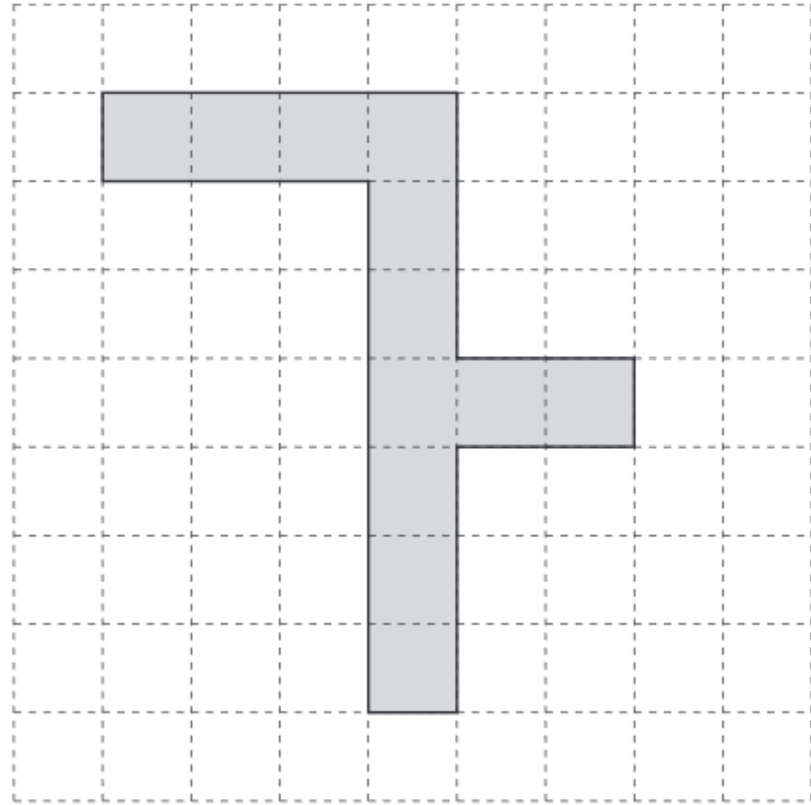
X	10	2	4
5			
4			
6			

X	2	6	8
3			
4			
5			

LEGGI E RISOLVI A MENTE LE OPERAZIONI E LEGGI I COLORI

$4+5$	$6+4$	$3+6$	$7+3$	$5+5$	$10+2$	$12+4$	$14+1$	$15+2$	$16+4$
$5-2$	$4-4$	$8-3$	$9-3$	$7-2$	$10-4$	$14-2$	$16-6$	$15-1$	$18-3$
$5+3$	$5+4$	$6-2$	$10+3$	$7-7$	$6+4$	$12+4$	$15-10$	$18-2$	$20-2$

Un muratore deve comporre con delle piastrelle la decorazione di un pavimento come quella in figura.



Ogni piastrella è fatta così



Quante piastrelle deve usare il muratore per fare questa decorazione? ATTENTO le piastrelle non devono sovrapporsi!!!

RISPOSTA: il muratore deve usare.....piastrelle.

TRA QUESTI PROBLEMI CE N'E' UNO CHE NON SI PUO' RISOLVERE, INDICA CON UNA X QUAL'E'

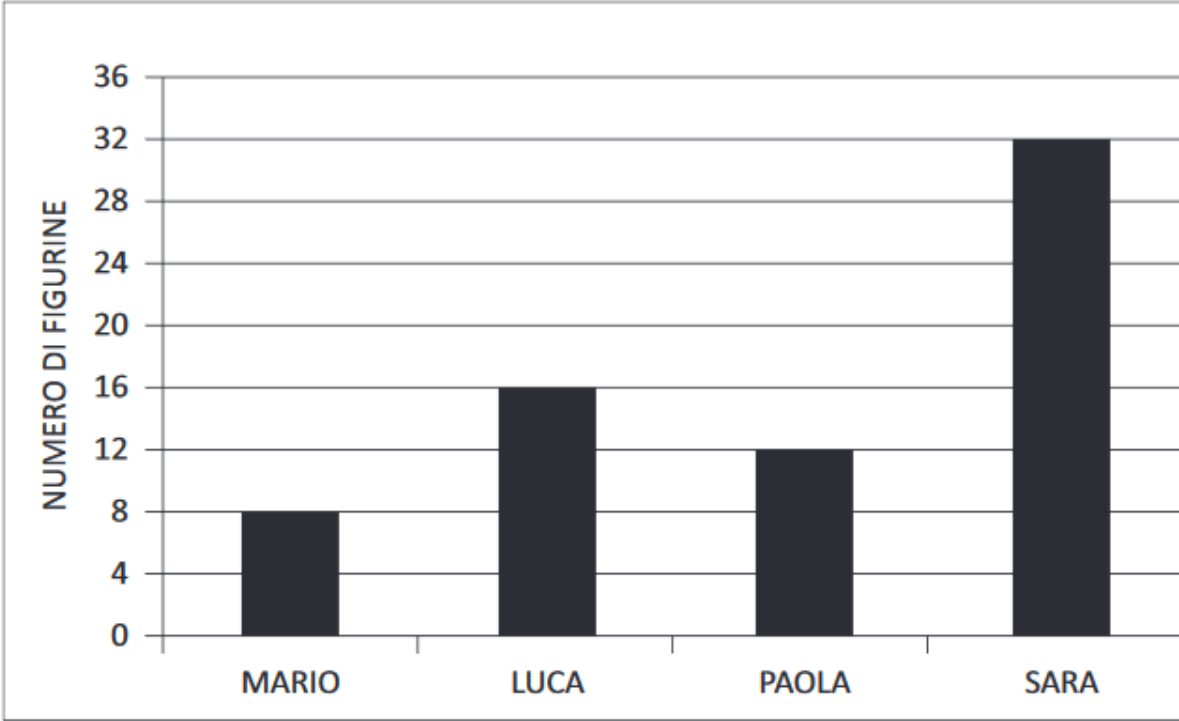
ANNA HA 10 PACCHETTI DI FIGURINE. IN OGNI PACCHETTO CI SONO 5 FIGURINE. QUANTE FIGURINE HA COMPLESSIVAMENTE ANNA?

LA MAMMA AL MERCATO HA COMPRATO UN PO' DI LIMONI E 10 MELE. QUANTA FRUTTA IN TUTTO HA COMPRATO LA MAMMA?

IL MACELLAIO AVEVA 25 SALSICCE, IL SUO CAGNOLINO NE HA MANGIATE 8. QUANTE SALSICCE RESTANO AL MACELLAIO?

SCRIVI PERCHE' IL PROBLEMA CHE HAI SCELTO NON SI PUO' RISOLVERE

Questo grafico rappresenta il numero di figurine che Mario, Luca, Paola e Sara hanno in tasca.



Osserva il grafico e rispondi.

- a. Luca ha il doppio delle figurine di Mario?
 Sì No Non si può sapere

- b. Luca ha solo una figurina in più di Paola?
 Sì No Non si può sapere

- c. Sara ha più anni di Luca?
 Sì No Non si può sapere

LEGGI E RISOLVI A MENTE LE OPERAZIONI E LEGGI I COLORI

$6+5$	Blue	$6-3$	Yellow	$5+5$	Green	$12-4$	Red	$15+2$	Blue
$4+5$	Yellow	$10-4$	Red	$12+5$	Yellow	$9-5$	Green	$16+1$	Green
$5+2$	Red	$8-3$	Blue	$7+2$	Red	$14-2$	Yellow	$15-1$	Red
$7+3$	Green	$12-2$	Blue	$18+2$	Green	$10-5$	Blue	$13+4$	Yellow
$5+3$	Blue	$6-6$	Red	$17+2$	Blue	$16-4$	Green	$18-2$	Red

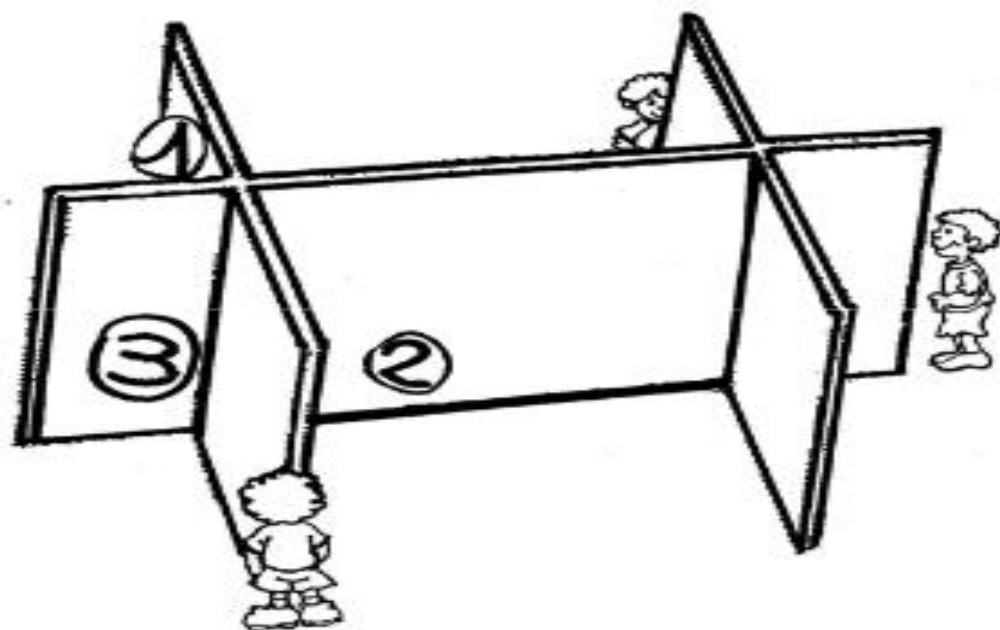
Sara nel portafoglio ha questi soldi.



Quanti euro ha Sara nel portafoglio?

- A. 421 euro
- B. 142 euro
- C. 124 euro

Tre bambini stanno cercando la palla per giocare ma nessuno dei tre adesso riesce a vederla. Dove è la palla?



- A. Nella posizione 1
- B. Nella posizione 2
- C. Nella posizione 3